



5+

Μαθηματικά



εξοικείωση με
τους αριθμούς

μετρώντας από
το 1 ως το 10

σχήματα

μοτίβα

πρόσθεση
και αφαίρεση

η ώρα

JO ELLEN MOORE



Μαθηματικά



5+

ΜΕΤΑΦΡΑΣΗ
ΚΩΣΤΑΣ ΣΙΜΟΣ





αριστερά και δεξιά

- ▶ Βοήθησε το ζώακι να φτάσει στο σπίτι του. Ξεκίνα από αριστερά. Χάραξε τη γραμμή προς τα δεξιά.



► Κοίταξε την κάθε εικόνα. Ξεκίνα αποπάνω.
Χάραξε τη γραμμή μέχρι κάτω.



ίδιοι αριθμοί



► Κύκλωσε τον αριθμό που είναι **ίδιος** με τον πρώτο.

3

3

2

5

6

4

7

1

3

4

5

3

5

6

9

2

3

2

5

8

8

8

3

2

5

9

3

6

9

0

▶ Χρωμάτισε **μπλε** τις φούσκες με τα **γράμματα**.
Χρωμάτισε **κίτρινες** τις φούσκες με τους **αριθμούς**.

3

Σ

Η

7

4

Φ

8

Δ

2

5

Λ



γράμματα και αριθμοί στη θάλασσα

- Κοίταξε τα γράμματα και τους αριθμούς ψηλά. Βρες τα κρυμμένα γράμματα και τους αριθμούς στην εικόνα αποκάτω. Κύκλωσε τα **γράμματα** με **πράσινο**. Κύκλωσε τους **αριθμούς** με **κόκκινο**.

δ

8

ε

6

τ



διαφορετικός αριθμός



► Σβήσε με **X** τον αριθμό που είναι **διαφορετικός** σε κάθε σειρά.

9 9 9 9 6

4 4 7 4 4

3 8 3 3 3









2 2 2 5 2

7 1 1 1 1

0 9 0 0 0

αρχή, μέση ή τέλος;

▶ Ζωγράφισε την εικόνα που λείπει.
Πες αν είναι στην **αρχή**, στη **μέση** ή στο **τέλος**.



- Κοίταξε τα γράμματα και τους αριθμούς ψηλά. Βρες τα κρυμμένα γράμματα και τους αριθμούς στην εικόνα αποκάτω. Κύκλωσε τα **γράμματα** με **μπλε**. Κύκλωσε τους αριθμούς με **μοβ**.

Χ

5

Π

4

Γ



2 ή 3 φρούτα;

▶ Μέτρησε τα φρούτα.
Κύκλωσε τον σωστό αριθμό.

